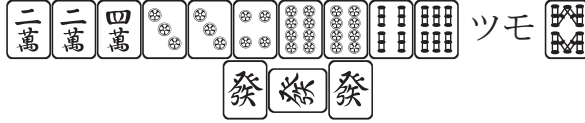


# 麻雀問題 (1問 10点)

※マンズは一 (漢数字)、ピンズは① (○囲み数字)、ソーズは 1 (算用数字) で書くこと

## 【問題 1】

東 1 局南家。ドラ 。次の手牌から何を切る？




答. 

## 【問題 2】

東 1 局東家。ドラ 。次の手牌から何を切る？



答. 

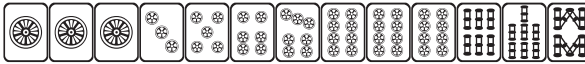
## 【問題 3】




 を必要とする手役をすべて書きなさい (カタカナ可)。

答. コクシムソウ

## 【問題 4】

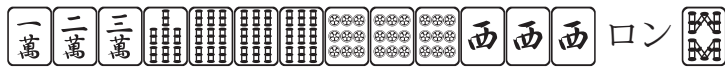
東家が次の手牌でリーチ。何待ち？



答.   

## 【問題 5】

東 1 局西家。次のアガリ形の点数を答えなさい (ダマテン)。



ドラ 

答. 6400





## 【問題 6】

リーチ、チートイツ、ツモ、ホンイツ、ドラ 2 で 3 倍マン。もうひとつの複合役は？

答. ホンロウ

## 【問題 7】



子のダマテン。  ロンで 2000。  ロンで 2600。  ロンで 3900。  は？

答.  

